

**ВСЕРОССИЙСКАЯ ОЛИМПИАДА ШКОЛЬНИКОВ  
ПО ИСТОРИИ  
ШКОЛЬНЫЙ ЭТАП**

10 класс

2023 – 2024 учебный год

505 

Время на выполнение работы – 120 минут.

*В заданиях 1–3 вставьте пропущенные слова. Ответы внесите в таблицу.*

- Искоростень был центром восточнославянского племенного союза \_\_\_\_\_.
- В декабре 1237 года под натиском войск Батыя пал город \_\_\_\_\_.
- В конце XV века Иван III принял титул «\_\_\_\_\_ всея Руси».

**Ответы:**

1	2	3
древляны 4	Рязань 4	Цесарь 4

35

**Максимум за задания 1–3 – 3 балла.**

*В заданиях 4–6 выберите верные ответы. Ответы внесите в таблицу.*

4. Кто из перечисленных деятелей входил в «кружок ревнителей древнего благочестия»?

- |  |  |
|--|--|
| <input checked="" type="checkbox"/> 1) Иван Неронов      | <input type="checkbox"/> 4) Аввакум Петров |
| <input checked="" type="checkbox"/> 2) Феофан Прокопович | <input type="checkbox"/> 5) Алексей Адашев |
| <input type="checkbox"/> 3) Стефан Вонифатьев            | <input type="checkbox"/> 6) Пётр Могила    |

5. Какие из перечисленных географических названий связаны с русско-турецкими войнами второй половины XVIII века?

- |                                     |                                     |
|-------------------------------------|-------------------------------------|
| <input type="checkbox"/> 1) Карс    | <input type="checkbox"/> 4) Измаил  |
| <input type="checkbox"/> 2) Кинбурн | <input type="checkbox"/> 5) Плевна  |
| <input type="checkbox"/> 3) Очаков  | <input type="checkbox"/> 6) Чигирин |

6. Какие из приведённых событий произошли в 1947 году?

- отмена смертной казни в мирное время
- советско-китайский пограничный конфликт на острове Даманский
- создание Коминформбюро
- денежная реформа в СССР
- Ленинградское дело
- принятие конституции «развитого социализма»

**Ответы.**

4	5	6
126	145	324

+ - -

- + -

+ - +

15

**Максимум за задания 4–6 – 6 баллов.**

7. Что с исторической точки зрения объединяет перечисленные в ряду элементы? Дайте максимально точный ответ.

- Василий Косой, Дмитрий Красный, Василий Тёмный, Дмитрий Шемяка.
- 1731 г., 1736 г., 1762 г., 1785 г.

Ответ.

7.1. московские князья XIV века —

7.2. годы разгрома Речи Посполитой —

Максимум за задание – 4 балла.

8. Дайте краткое обоснование ряда (что объединяет перечисленные элементы с исторической точки зрения) и укажите, какой из элементов является лишним по данному основанию.

8.1. Верхняя расправа, земское собрание, губернское правление, земский суд.

8.2. «Народная расправа», «Союз спасения», «Земля и воля», «Чёрный передел».

Ответ.

8.1. Органы местной власти. Лишнее – Верхняя расправа —

8.2. ~~Социально-демократические организации~~. Лишнее – «Союз спасения» + +

Максимум за задание – 6 баллов.

9. Расположите в хронологической последовательности события.

1) принятие Новоторгового устава

2) открытие Вольного экономического общества

3) создание комбедов

4) отмена подушной подати

5) строительство Царскосельской железной дороги

6) открытие Волжского автомобильного завода.

Ответ.

1	2	3	4	5	6
4 -	5 -	1 -	2 -	3 +	6 +

es

Максимум за задание – 6 баллов.

10. Установите соответствие между годами и событиями из истории Русской православной церкви.

К каждой позиции первого столбца подберите соответствующую позицию из второго столбца.

Запишите в таблицу выбранные цифры под соответствующими буквами.

Годы	События
А) 988	1) автокефалия Русской церкви
Б) 1448	2) встреча И.В. Сталина с представителями русской православной церкви
В) 1589	3) создание Святейшего Синода
Г) 1721	4) крещение Руси
Д) 1764	5) учреждение патриаршества в России
Е) 1943	6) переезд митрополита Петра в Москву
	7) секуляризация церковных земель

Ответ.

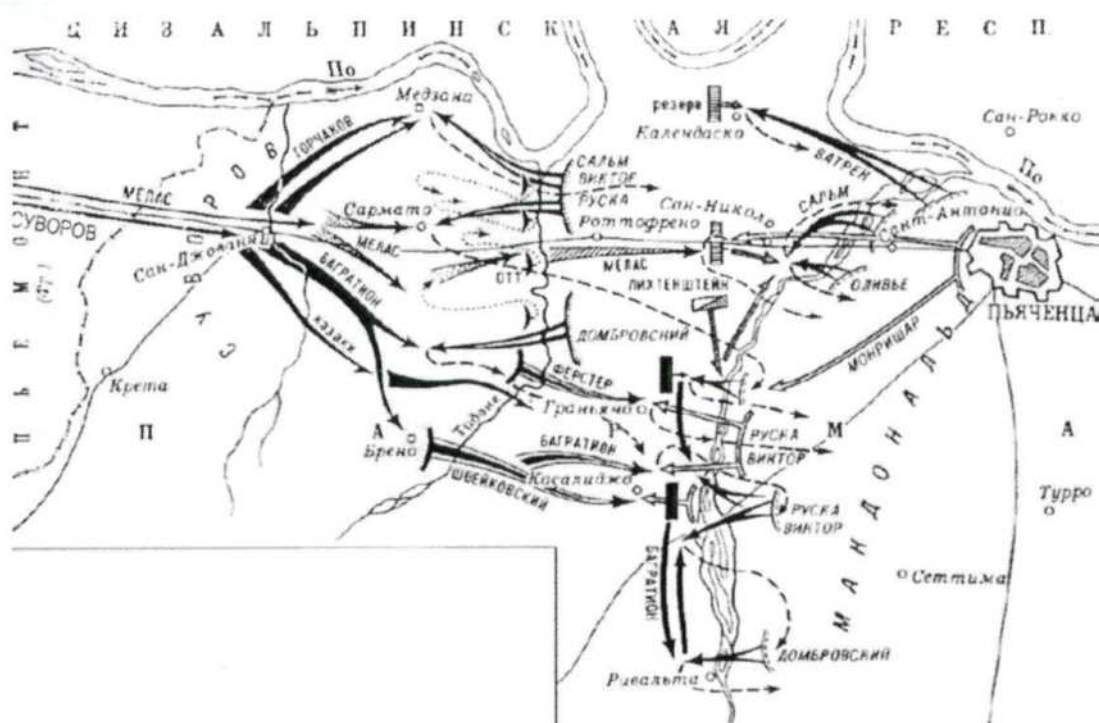
А	Б	В	Г	Д	Е
4	6	5	3	7	2

4 - 6 + 5 + 3 + 7 +

Максимум за задание – 6 баллов.

5 5 +

11. Внимательно рассмотрите схему и выполните задания.



11.1. А) Назовите сражение, представленное на схеме. Б) Укажите год, в котором оно произошло.

Ответ.

А) Битва при р. Кемане — Б) 1805 год. — ОК

11.2. Назовите фамилию русского полководца, главнокомандующего русскими войсками в сражении, изображённом на схеме.

Ответ. Суворов ✓

11.3. Укажите российского монарха, в правление которого произошло сражение, обозначенное на схеме.

Ответ. Александр I —

11.4. Назовите государство, войска которого противостояли русским войскам в сражении, обозначенном на схеме.

Ответ. Францы ✓

11.5. Верны ли представленные ниже утверждения («да» – «нет»)? Ответы внесите в таблицу.

1) Представленные на схеме события происходили одновременно с заседаниями Уложенной комиссии.

2) На схеме указана фамилия российского военачальника, погибшего в Бородинском сражении.

3) На стороне русской армии в данном сражении участвовали австрийские войска.

4) Сражение, ход которого обозначен на схеме, произошло во время Пятой антифранцузской коалиции.

5) В данном сражении принимали участие русские иррегулярные войска.

6) Полководец, главнокомандующий русскими войсками, известен почётным титулом «князь Италийский».

7) Сражение, обозначенное на схеме, завершилось подписанием Рапальского договора.

8) Сражение, изображённое на схеме, произошло на территории современной Польши.

Ответ.

1	2	3	4	5	6	7	8
нет +	га +	га +	нет +	нет -	га +	нет +	нет +

Максимум за задание – 13 баллов.

7/5

12. Перед вами отрывки из международных договоров России/СССР. Определите, о каком договоре идёт речь, с какой страной он был заключён. Ответ внесите в предложенную ниже таблицу. Впишите в первый столбец таблицы порядковые номера договоров из списка, приведённого ниже, в хронологической последовательности их заключения, во второй столбец таблицы напротив названия договора запишите буквенное обозначение соответствующего фрагмента договора, в третьем столбце укажите название страны, с которой он был заключён.

**Фрагменты договоров**

А) «Его Величество Шах... от своего имени, и от имени своих Наследников и преемников, уступает Российской Империи в совершенную собственность Ханство Эриванское по сию и по ту сторону Аракса, и Ханство Нахичеванское. В следствие сей уступки, Его Величество Шах обещает, не позже 6 месяцев, считая от подписания настоящего договора, сдать Российским Начальствам все архивы и публичные документы, относящиеся до управления обоими вышеозначенными Ханствами».

Б) «Отныне границы между Россией и [...] будут проходить между островами Итурупом и Урупом. Весь остров Итуруп принадлежит [...], а весь остров Уруп и прочие Курильские острова к северу составляют владение России. Что касается острова Крафто (Сахалина), то он остаётся неразделённым между Россией и [...], как было до сего времени. Правительство открывает для русских судов три порта: Симода, в княжестве Идзу, Хакодате, в области Хакодате, и Нагасаки в княжестве Хизен».

В) «В следствии того, как в прелиминарном втором артикуле положено, что река Днестр навеки имеет быть границею между обеими Империями, так что впредь пределы Империи Всероссийской имеют простираться до помянутой реки, и ныне обе договаривающиеся Империи между собою согласились и постановили, что между Империею Всероссийскою и [...] пребудет границею река Днестр, так, что все земли, на левом берегу помянутой реки лежащая, имеют остаться вечно в совершенном и безпрепятственном владении Всероссийской Империи».

Г) «Е. к. в. уступает сим за себя и своих потомков и наследников престола и королевства [...] е. ц. в. и его потомкам и наследникам Российского государства в совершенное непрекословное вечное владение и собственность в сей войне... завоёванные провинции: Лифляндию, Эстляндию, Ингерманландию и часть Карелии с дистриктом Выборгского лена, который ниже сего в артикуле разграничения означен и описан, с городами и крепостями: Ригой, Дюнаминдом, Пернавой, Ревелем, Дерптом, Нарвой».

Д) «В подтверждение и пояснение первой статьи договора, заключённого в городе Айгуне... определяется: с сих пор восточная граница между двумя государствами, начиная от слияния рек Шилки и Аргуни, пойдёт вниз по течению реки Амура до места слияния сей последней реки с рекой Усури. Земли, лежащие по левому берегу (на север) реки Амура, принадлежат российскому государству, а земли, лежащие на правом берегу (на юг), до устья реки Усури, принадлежат [...] государству».

**Названия договоров**

- 1) Туркманчайский договор
- 2) Симодский трактат
- 3) Ништадтский договор
- 4) Пекинский договор
- 5) Ясский договор

Ответ.

Договор	Буквенное обозначение фрагмента	Страна, с которой заключён договор
3 +	Г +	Швеция +
<del>5</del> 5 +	ВВВ +	Оманское империя +

У 51 7	АВА 7	<del>Пересе</del>
4 -	D - 9)	Киев - 9)
2 -	b - 9)	Ленин - 9)

4  
7-4 ИСТ 10  
201  
04  
98

Максимум за задание – 12 баллов

13. В таблице помещены названия известных наступательных операций, осуществлённых Красной Армией в годы Великой Отечественной войны. Заполните таблицу, вписав в неё арабские цифры, которыми обозначены сроки проведения операций, буквенные обозначения основных целей каждой операции и римские цифры, которыми обозначены изображения, связанные с той или иной операцией.

**Сроки проведения**

**Основная цель операции**

**Иллюстрации**

1) август – сентябрь 1943 г.

А) Разгром фашистских войск под Сталинградом

I



2) ноябрь 1942 г. – февраль 1943 г.

Б) Освобождение Белгорода и Харькова

II



3) июнь – август 1944 г.

В) Дезорганизация перевозок в тылу врага

III



4) август 1943 г.

Г) Освобождение Белоруссии

IV



Ответ.

Название военной операции	Цифровое обозначение сроков проведения	Буквенное обозначение цели	Цифровое обозначение иллюстрации
«Багратион»	14 -	A -	- III
«Рельсовая война»	2 -	B +	+ IV
«Полководец Румянцев»	3 -	Г -	- II
«Уран»	11 -	Б -	- I

Максимум за задание – 12 баллов.

14. Прочитайте приведённый ниже отрывок из документа и ответьте на вопросы.

«Полагая в основу своей деятельности соблюдение строгой законности и обсудив в связи с этим началом высказанные Государственной Думой соображения, правительство выражает прежде всего готовность оказать полное содействие разработке тех вопросов, возбуждённых Государственной Думой, которые не выходят из пределов предоставленного ей законодательного почина.

Такое содействие, вполне отвечающее обязанности правительства разъяснять Государственной Думе свои взгляды по существу этих вопросов и отстаивать свои предположения по каждому из них, оно окажет и в вопросе об изменении избирательного права, хотя со своей стороны и не считает этого вопроса подлежащим немедленному обсуждению, так как Государственная Дума только ещё приступает к своей законодательной деятельности, а потому не успела выясниться потребность в изменении способа её составления.

Относительно разрешения земельного крестьянского вопроса путем указанного Государственной Думой обращение на этот предмет земель уделных, кабинетских, монастырских, церковных и принудительного отчуждения земель частновладельческих, к которым принадлежат и земли крестьян-собственников, приобретших их покупкою, Совет министров считает своею обязанностью заявить, его разрешение этого вопроса на предложенных Государственной Думой основаниях безусловно недопустимо. Государственная власть не может признавать права собственности на земли за одними и в то же время отнимать это право у других... Начало неотъемлемости и неприкосновенности собственности является, во всём мире и на всех ступенях развития гражданской жизни, краеугольным камнем народного благосостояния и общественного развития, коренным устоем государственного бытия, без коего немислимо и самое существование государства. <...> Сила русского государства зиждется прежде всего на силе его земледельческого населения. Благосостояние нашего отечества недостижимо, пока не обеспечены необходимые условия успеха и процветания земледельческого труда, который составляет основу всей нашей экономической жизни. Почитая поэтому крестьянский вопрос – ввиду его всеобъемлющего государственного значения – наиболее важным из подлежащих ныне разрешению, Совет министров признаёт, что в соответствии с этой важностью требуется и особая заботливость и осторожность в изыскании путей и способов для его разрешения.

Уравнение крестьян в их гражданских и политических правах с прочими сословиями отнюдь не должно лишить государственную власть права и обязанности выказывать особую заботливость к нуждам земледельческого крестьянства. Мероприятия в этой области должны быть направлены как к улучшению условий крестьянского землепользования в его существующих границах, так и к увеличению площади землевладения малоземельной части населения за счёт свободных казенных земель и приобретением частновладельческих земель при содействии Крестьянского поземельного банка. Громадные пространства пригодной для обработки земли ныне пустуют в азиатских владениях империи. Развитие переселенческого дела составит ввиду этого одну из первейших забот Совета министров...»

14.1. Назовите порядковый номер Государственной думы, к которой обращена речь, отрывок которой предоставлен. Приведите аргумент из текста в подтверждение своей позиции.

Ответ.

В предоставленном отрывке речь обращена к первой Государственной Думе. В подтверждение своей позиции привожу аргумент из текста, который говорит о том, что Государственная Дума лишь недавно начала свою деятельность, а следовательно, является первой Думой: «... Государственная Дума только

ка еще приступает к своей законодательной деятельности...

14.2. Как Государственная дума предлагает решить аграрный вопрос? Каково отношение к этому правительства? Приведите на основе текста три положения отношения правительства к аграрному проекту Думы.

Ответ. Государственная Дума предлагает решить аграрный вопрос путем принудительного отчуждения земель и порабощения их крестьянами (т.е. национализацией земель). Правительство относит к предложенному выводу...

- 1) ... Совет министров считает своим долгом заявить, но разрешить этого вопроса на предложенный Государственной Думой основании безусловно невозможно!
- 2) Государственная власть не может признать права собственности на земли за одними и в то же время отнимать это право у других...
- 3) Начало собственности и неприкосновенности собственности является краеугольным камнем народного благосостояния и общественного развития, крепким углом государственного бытия, без когдо которого и самое существование государства.

14.3. Какие мероприятия по решению аграрного вопроса предлагает автор речи? На основе текста приведите три положения.

Ответ. Автор речи предлагает провести такие мероприятия, как улучшение условий крестьянского земледелия, увеличение субсидий. Автор речи предлагает провести следующие мероприятия по решению аграрного вопроса:

- 1) ... улучшить условия крестьянского земледелия в его существующих границах...
- 2) ... увеличению площади земледелия малодеятельной частью населения за счет свободной казенной земли и приобре- тения пашен вольноземных земель при содействии крестьянского поземельного банка.
- 3) Развитие переселенческого дела составило громадную программу обработки земли южные пустыни в азиат- ских владениях империи. Развитие переселенческого дела составило одну из первейших работ Совета министров.

14.4. Обсуждение какого ещё вопроса, кроме аграрного, Дума считает первоочередным? Каково отношение правительства к этому вопросу?

Ответ. Дума считает первоочередным также и обсуждение о вопросе об изменении избирательно- го права. Правительство считает, что обсуждение вопроса избирательного права не подлежит немедленному обсуждению и не означает необходимости решить аграрные вопросы.

14.5. Взглядов какого общественно-политического течения (идеологии) придерживается автор текста? На основании текста приведите три аргумента.

Ответ. По мнению автора, автор текста придерживается умеренно либерально-консервативного течения.

- 1) Во-первых, автор придерживается мнению, что неприкосновенность собственности является основой процветания государства, что более присуще либерализму: Начало собственности и неприкосновенности собственности является... краеугольным камнем народ- ного благосостояния и общественного развития...
- 2) Во-вторых, автор текста оказывает полное содействие разработке законов Гоесудия, поскольку одним из требований либе- рально-консервативного течения является создание представительного законодательного органа: ... правительство вразумляет... готовность оказывать полное содействие при разработке тех вопросов, возбудивших Государственной Думой...
- 3) В-третьих, автор текста готов оказывать содействие в разработке решения вопроса об избирательном праве, поскольку либе- рально-консервативное течение решало вопросы прежде всего прав и свобод человека: такое содействие... оно оказывает и в вопросе об изменении избирательного права...

Максимум за задание - 25 баллов.

ВСЕРОССИЙСКАЯ ОЛИМПИАДА ШКОЛЬНИКОВ  
ПО ИСТОРИИ  
ШКОЛЬНЫЙ ЭТАП

390

10 класс

2023 – 2024 учебный год

*[Signature]*

Время на выполнение работы – 120 минут.

В заданиях 1–3 вставьте пропущенные слова. Ответы внесите в таблицу.

- 1. Искоростень был центром восточнославянского племенного союза Древляни.
- 2. В декабре 1237 года под натиском войск Батыя пал город Киев.
- 3. В конце XV века Иван III принял титул «Князь всея Руси».

Ответы:

1	2	3
Древляни +	Киев -	Князь -

10

Максимум за задания 1–3 – 3 балла.

В заданиях 4–6 выберите верные ответы. Ответы внесите в таблицу.

4. Кто из перечисленных деятелей входил в «кружок ревнителей древнего благочестия?»

- 1) Иван Неронов
- 2) Феофан Прокопович
- 3) Стефан Вонифатьев
- 4) Аввакум Петров
- 5) Алексей Адашев
- 6) Пётр Могила

5. Какие из перечисленных географических названий связаны с русско-турецкими войнами второй половины XVIII века?

- 1) Карс
- 2) Кинбурн
- 3) Очаков
- 4) Измаил
- 5) Плевна
- 6) Чигирин

6. Какие из приведённых событий произошли в 1947 году?

- 1) отмена смертной казни в мирное время
- 2) советско-китайский пограничный конфликт на острове Даманский
- 3) создание Коминформбюро
- 4) денежная реформа в СССР
- 5) Ленинградское дело
- 6) принятие конституции «развитого социализма»

Ответы.

4	5	6
1 4	1 3 4	2 3 4

+ +      - + +      - + +

Максимум за задания 4–6 – 6 баллов.

7. Что с исторической точки зрения объединяет перечисленные в ряду элементы? Дайте максимально точный ответ.

7.1. Василий Косой, Дмитрий Красный, Василий Тёмный, Дмитрий Шемяка.

7.2. 1731 г., 1736 г., 1762 г., 1785 г.

Ответ.

7.1. Восстание Пугачёва —

7.2. —



Максимум за задание – 4 балла.

8. Дайте краткое обоснование ряда (что объединяет перечисленные элементы с исторической точки зрения) и укажите, какой из элементов является лишним по данному основанию.

8.1. Верхняя расправа, земское собрание, губернское правление, земский суд.

8.2. «Народная расправа», «Союз спасения», «Земля и воля», «Чёрный передел».

Ответ.

8.1. 9

8.2. \_\_\_\_\_

Максимум за задание – 6 баллов.

9. Расположите в хронологической последовательности события.

1) принятие Новоторгового устава

2) открытие Вольного экономического общества

3) создание комбедов

4) отмена подушной подати

5) строительство Царскосельской железной дороги

6) открытие Волжского автомобильного завода.

Ответ.

1	2	3	4	5	6
14	4 2	4 -	5 -	- 6	- 2

Максимум за задание – 6 баллов.

10. Установите соответствие между годами и событиями из истории Русской православной церкви.

К каждой позиции первого столбца подберите соответствующую позицию из второго столбца.

Запишите в таблицу выбранные цифры под соответствующими буквами.

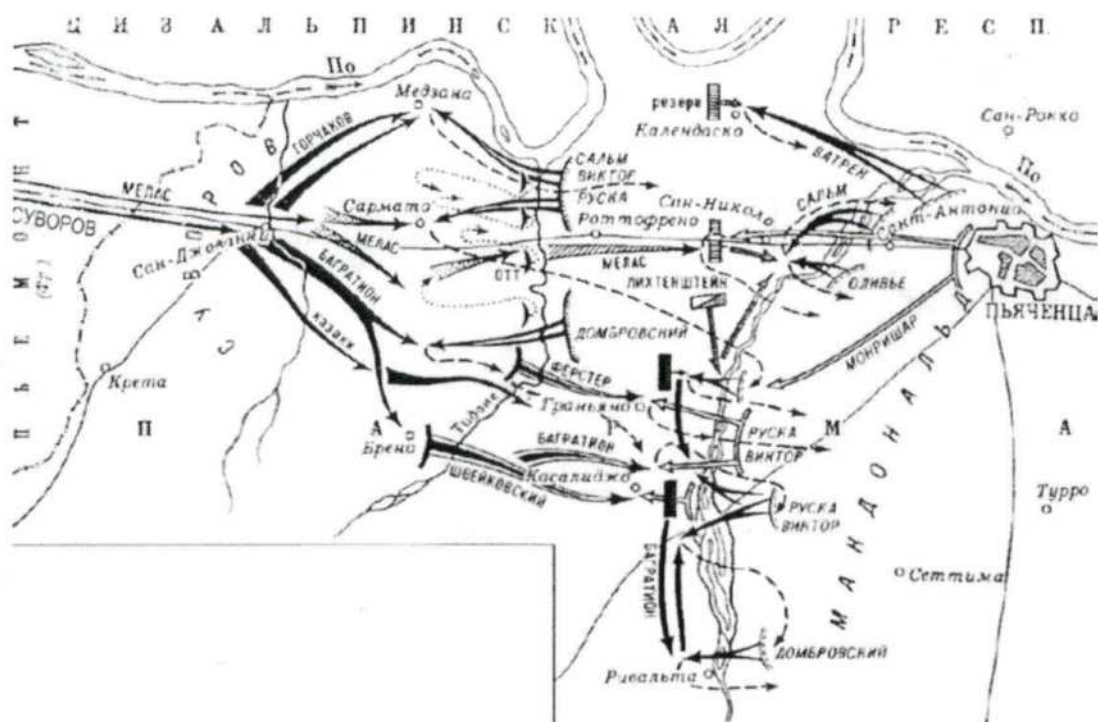
Годы	События
А) 988	1) автокефалия Русской церкви
Б) 1448	2) встреча И.В. Сталина с представителями русской православной церкви
В) 1589	3) создание Святейшего Синода
Г) 1721	4) крещение Руси
Д) 1764	5) учреждение патриаршества в России
Е) 1943	6) переезд митрополита Петра в Москву
	7) секуляризация церковных земель

Ответ.

А	Б	В	Г	Д	Е
4 +	4 1	3 -	6 -	7 +	2 7

Максимум за задание – 6 баллов.

11. Внимательно рассмотрите схему и выполните задания.



11.1. А) Назовите сражение, представленное на схеме. Б) Укажите год, в котором оно произошло.

Ответ.

А) Сражение при Аустерлице Б) 1807 1807

11.2. Назовите фамилию русского полководца, главнокомандующего русскими войсками в сражении, изображённом на схеме.

Ответ. Кутузов

11.3. Укажите российского монарха, в правление которого произошло сражение, обозначенное на схеме.

Ответ. Александр I

11.4. Назовите государство, войска которого противостояли русским войскам в сражении, обозначенном на схеме.

Ответ. Франция

11.5. Верны ли представленные ниже утверждения («да» – «нет»)? Ответы внесите в таблицу.

- 1) Представленные на схеме события происходили одновременно с заседаниями Уложенной комиссии.
- 2) На схеме указана фамилия российского военачальника, погибшего в Бородинском сражении.
- 3) На стороне русской армии в данном сражении участвовали австрийские войска.
- 4) Сражение, ход которого обозначен на схеме, произошло во время Пятой антифранцузской коалиции.
- 5) В данном сражении принимали участие русские иррегулярные войска.
- 6) Полководец, главнокомандующий русскими войсками, известен почётным титулом «князь Итальянский».
- 7) Сражение, обозначенное на схеме, завершилось подписанием Рапальского договора.
- 8) Сражение, изображённое на схеме, произошло на территории современной Польши.

Ответ.

1	2	3	4	5	6	7	8
нет	да	да	да	нет	да	нет	нет

4 4 1 - - 4 7 7

Максимум за задание – 13 баллов.

12. Перед вами отрывки из международных договоров России/СССР. Определите, о каком договоре идёт речь, с какой страной он был заключён. Ответ внесите в предложенную ниже таблицу. Впишите в первый столбец таблицы порядковые номера договоров из списка, приведённого ниже, в хронологической последовательности их заключения, во второй столбец таблицы напротив названия договора запишите буквенное обозначение соответствующего фрагмента договора, в третьем столбце укажите название страны, с которой он был заключён.

**Фрагменты договоров**

А) «Его Величество Шах... от своего имени, и от имени своих Наследников и преемников, уступает Российской Империи в совершенную собственность Ханство Эриванское по сию и по ту сторону Аракса, и Ханство Нахичеванское. В следствие сей уступки, Его Величество Шах обещает, не позже 6 месяцев, считая от подписания настоящего договора, сдать Российским Начальствам все архивы и публичные документы, относящиеся до управления обоими вышеозначенными Ханствами».

Б) «Отныне границы между Россией и [...] будут проходить между островами Итурупом и Урупом. Весь остров Итуруп принадлежит [...], а весь остров Уруп и прочие Курильские острова к северу составляют владение России. Что касается острова Крафто (Сахалина), то он остаётся неразделённым между Россией и [...], как было до сего времени. Правительство открывает для русских судов три порта: Симода, в княжестве Идзу, Хакодате, в области Хакодате, и Нагасаки в княжестве Хизен».

В) «В следствии того, как в прелиминарном втором артикуле положено, что река Днестр навеки имеет быть границею между обеими Империями, так что впредь пределы Империи Всероссийской имеют простираться до помянутой реки, и ныне обе договаривающиеся Империи между собою согласились и постановили, что между Империею Всероссийскою и [...] пребудет границею река Днестр, так, что все земли, на левом берегу помянутой реки лежащая, имеют остаться вечно в совершенном и безпрепятственном владении Всероссийской Империи».

Г) «Е. к. в. уступает сим за себя и своих потомков и наследников престола и королевства [...] е. ц. в. и его потомкам и наследникам Российского государства в совершенное непрекословное вечное владение и собственность в сей войне... завоёванные провинции: Лифляндию, Эстляндию, Ингерманландию и часть Карелии с дистриктом Выборгского лена, который ниже сего в артикуле разграничения означен и описан, с городами и крепостями: Ригой, Дюнаминдом, Пернавой, Ревелем, Дерптом, Нарвой».

Д) «В подтверждение и пояснение первой статьи договора, заключённого в городе Айгуне... определяется: с сих пор восточная граница между двумя государствами, начиная от слияния рек Шилки и Аргуни, пойдёт вниз по течению реки Амура до места слияния сей последней реки с рекой Усури. Земли, лежащие по левому берегу (на север) реки Амура, принадлежат российскому государству, а земли, лежащие на правом берегу (на юг), до устья реки Усури, принадлежат [...] государству».

**Названия договоров**

- 1) Туркманчайский договор
- 2) Симодский трактат
- 3) Ништадтский договор
- 4) Пекинский договор
- 5) Ясский договор

Ответ.

Договор	Буквенное обозначение фрагмента	Страна, с которой заключён договор
3	Г	Швейцария
1	А	Персия / Иран

2 —	В —	Османская империя
4 —	— Д	— Китайская Империя
5 —	Б —	— Япония

38

Максимум за задание – 12 баллов

13. В таблице помещены названия известных наступательных операций, осуществлённых Красной Армией в годы Великой Отечественной войны. Заполните таблицу, вписав в неё арабские цифры, которыми обозначены сроки проведения операций, буквенные обозначения основных целей каждой операции и римские цифры, которыми обозначены изображения, связанные с той или иной операцией.

**Сроки проведения**

**Основная цель операции**

**Иллюстрации**

1) август – сентябрь 1943 г.

А) Разгром фашистских войск под Сталинградом



2) ноябрь 1942 г. – февраль 1943 г.

Б) Освобождение Белгорода и Харькова



3) июнь – август 1944 г.

В) Дезорганизация перевозок в тылу врага



4) август 1943 г.

Г) Освобождение Белоруссии



Ответ.

Название военной операции	Цифровое обозначение сроков проведения	Буквенное обозначение цели	Цифровое обозначение иллюстрации
«Багратион»	3 +	Г +	II 4
«Рельсовая война»	2 -	В +	IV +
«Полководец Румянцев»	4 +	А -	III -
«Уран»	1 -	5 -	- I

Максимум за задание – 12 баллов.

65

14. Прочитайте приведённый ниже отрывок из документа и ответьте на вопросы.

«Полагая в основу своей деятельности соблюдение строгой законности и обсудив в связи с этим началом высказанные Государственной Думой соображения, правительство выражает прежде всего готовность оказать полное содействие разработке тех вопросов, возбуждённых Государственной Думой, которые не выходят из пределов предоставленного ей законодательного почина.

Такое содействие, вполне отвечающее обязанности правительства разъяснять Государственной Думе свои взгляды по существу этих вопросов и отстаивать свои предположения по каждому из них, оно окажет и в вопросе об изменении избирательного права, хотя со своей стороны и не считает этого вопроса подлежащим немедленному обсуждению, так как Государственная Дума только ещё приступает к своей законодательной деятельности, а потому не успела выясниться потребность в изменении способа её составления.

Относительно разрешения земельного крестьянского вопроса путем указанного Государственной Думою обращение на этот предмет земель удельных, кабинетских, монастырских, церковных и принудительного отчуждения земель частновладельческих, к которым принадлежат и земли крестьян-собственников, приобретших их покупкою, Совет министров считает своею обязанностью заявить, его разрешение этого вопроса на предложенных Государственной Думою основаниях безусловно недопустимо. Государственная власть не может признавать права собственности на земли за одними и в то же время отнимать это право у других... Начало неотъемлемости и неприкосновенности собственности является, во всём мире и на всех ступенях развития гражданской жизни, краеугольным камнем народного благосостояния и общественного развития, коренным устоем государственного бытия, без коего немислимо и самое существование государства. <...> Сила русского государства зиждется прежде всего на силе его земледельческого населения. Благосостояние нашего отечества недостижимо, пока не обеспечены необходимые условия успеха и процветания земледельческого труда, который составляет основу всей нашей экономической жизни. Почитая поэтому крестьянский вопрос – ввиду его всеобъемлющего государственного значения – наиболее важным из подлежащих ныне разрешению, Совет министров признаёт, что в соответствии с этой важностью требуется и особая заботливость и осторожность в изыскании путей и способов для его разрешения.

Уравнение крестьян в их гражданских и политических правах с прочими сословиями отнюдь не должно лишить государственную власть права и обязанности выказывать особую заботливость к нуждам земледельческого крестьянства. Мероприятия в этой области должны быть направлены как к улучшению условий крестьянского землепользования в его существующих границах, так и к увеличению площади землевладения малоземельной части населения за счёт свободных казенных земель и приобретением частновладельческих земель при содействии Крестьянского поземельного банка. Громадные пространства пригодной для обработки земли ныне пустуют в азиатских владениях империи. Развитие переселенческого дела составит ввиду этого одну из первейших забот Совета министров...»

14.1. Назовите порядковый номер Государственной думы, к которой обращена речь, отрывок которой предоставлен. Приведите аргумент из текста в подтверждение своей позиции.

Ответ.

Первый номер. «Громадные пространства... пустуют в азиатских владениях империи», «... разрешение земельного вопроса»

15

14.2. Как Государственная дума предлагает решить аграрный вопрос? Каково отношение к этому правительства? Приведите на основе текста три положения отношения правительства к аграрному проекту Думы.

Ответ. 1) <sup>«Погибшая поэтому крестьянский вопрос...»</sup> Совет министров признаёт, что в соответствии с этой важностью требуется и особая заботливость и осторожность в изыскании путей и способов для его решения

2) ... правительство выражает прежде всего готовность оказать полное содействие тем вопросам, поставленным Государственной Думой, которые не выходят из пределов предоставленной ей законодательного права

3) ~~... Совет министров считает своим обязательством заявить Государственной власти не может признавать права собственности на землю...~~

14.3. Какие мероприятия по решению аграрного вопроса предлагает автор речи? На основе текста приведите три положения.

Ответ. 1) ... путем указанного Государственной Думой обращение на этот предмет земель удельных, кабинетских, монастырских, церковных и преемственного отчуждения земель частновладельческих

2) ~~Уравнение крестьян во их гражданских и политических правах с другими сословиями~~

3) ~~Трогательные пространства ... земли ныне пустыют в азиатской части империи. Развитие переселенческого дела...~~

14.4. Обсуждение какого ещё вопроса, кроме аграрного, Дума считает первоочередным? Каково отношение правительства к этому вопросу?

Ответ. 1) ~~Уравнение крестьян в правах с другими сословиями~~

1) Вопрос <sup>избирательного</sup> избирательного права  
2) Правительство не считает этот вопрос первоочередным, однако окажет Гос. Думе содействие

14.5. Взглядов какого общественно-политического течения (идеологии) придерживается автор текста? На основании текста приведите три аргумента.

Ответ. Консерватизм. <sup>4</sup> «Какая неотъемлемость и непрерывность собственности является, во всем мире и на всех ступенях развития гражданской жизни, краеугольным камнем ... государственного бытия, без которого нечт сломо и самое существование гос-ва»

Максимум за задание – 25 баллов.

ВСЕРОССИЙСКАЯ ОЛИМПИАДА ШКОЛЬНИКОВ  
ПО ИСТОРИИ  
ШКОЛЬНЫЙ ЭТАП  
10 класс  
2023 – 2024 учебный год

375

Время на выполнение работы – 120 минут.

*Handwritten signature*

В заданиях 1–3 вставьте пропущенные слова. Ответы внесите в таблицу.

- 1. Искоростень был центром восточнославянского племенного союза \_\_\_\_\_.
- 2. В декабре 1237 года под натиском войск Батыя пал город Новгород.
- 3. В конце XV века Иван III принял титул «Царь всея Руси».

Ответы:

1	2	3
—	Новгород —	Царь —

Максимум за задания 1–3 – 3 балла.

В заданиях 4–6 выберите верные ответы. Ответы внесите в таблицу.

- 4. Кто из перечисленных деятелей входил в «кружок ревнителей древнего благочестия»?
  - 1) Иван Неронов
  - 2) Феофан Прокопович
  - 3) Стефан Вонифатьев
  - 4) Аввакум Петров
  - 5) Алексей Адашев
  - 6) Пётр Могила
- 5. Какие из перечисленных географических названий связаны с русско-турецкими войнами второй половины XVIII века?
  - 1) Карс
  - 2) Кинбурн
  - 3) Очаков
  - 4) Измаил
  - 5) Плевна
  - 6) Чигирин
- 6. Какие из приведённых событий произошли в 1947 году?
  - 1) отмена смертной казни в мирное время
  - 2) советско-китайский пограничный конфликт на острове Даманский
  - 3) создание Коминформбюро
  - 4) денежная реформа в СССР
  - 5) Ленинградское дело
  - 6) принятие конституции «развитого социализма»

Ответы.

4	5	6
145 4+ -	145 -+-	136 +4 -

Максимум за задания 4–6 – 6 баллов.

7. Что с исторической точки зрения объединяет перечисленные в ряду элементы? Дайте максимально точный ответ.

- 7.1. Василий Косой, Дмитрий Красный, Василий Тёмный, Дмитрий Шемяка.
- 7.2. 1731 г., 1736 г., 1762 г., 1785 г.

Ответ.

- 7.1. \_\_\_\_\_
- 7.2. Годы царских переворотов

Максимум за задание – 4 балла.

8. Дайте краткое обоснование ряда (что объединяет перечисленные элементы с исторической точки зрения) и укажите, какой из элементов является лишним по данному основанию.

8.1. Верхняя расправа, земское собрание, губернское правление, земский суд.

8.2. «Народная расправа», «Союз спасения», «Земля и воля», «Чёрный передел».

Ответ.

8.1. ~~Органы власти~~, Органы местного самоуправления, созданные после реформы Александра II

8.2. Народные организации, целью которых являлось свержение правящего в тот момент Александра II, лишнее - «Союз спасения»

Максимум за задание – 6 баллов.

35

9. Расположите в хронологической последовательности события.

- 1) принятие Новоторгового устава
- 2) открытие Вольного экономического общества
- 3) создание комбедов
- 4) отмена подушной подати
- 5) строительство Царскосельской железной дороги
- 6) открытие Волжского автомобильного завода.

Ответ.

1	2	3	4	5	6
4 -	1 -	3 -	2 -	5 -	6 +

es

Максимум за задание – 6 баллов.

10. Установите соответствие между годами и событиями из истории Русской православной церкви. К каждой позиции первого столбца подберите соответствующую позицию из второго столбца. Запишите в таблицу выбранные цифры под соответствующими буквами.

Годы	События
А) 988	1) автокефалия Русской церкви
Б) 1448	2) встреча И.В. Сталина с представителями русской православной церкви
В) 1589	3) создание Святейшего Синода
Г) 1721	4) крещение Руси
Д) 1764	5) учреждение патриаршества в России
Е) 1943	6) переезд митрополита Петра в Москву
	7) секуляризация церковных земель

Ответ.

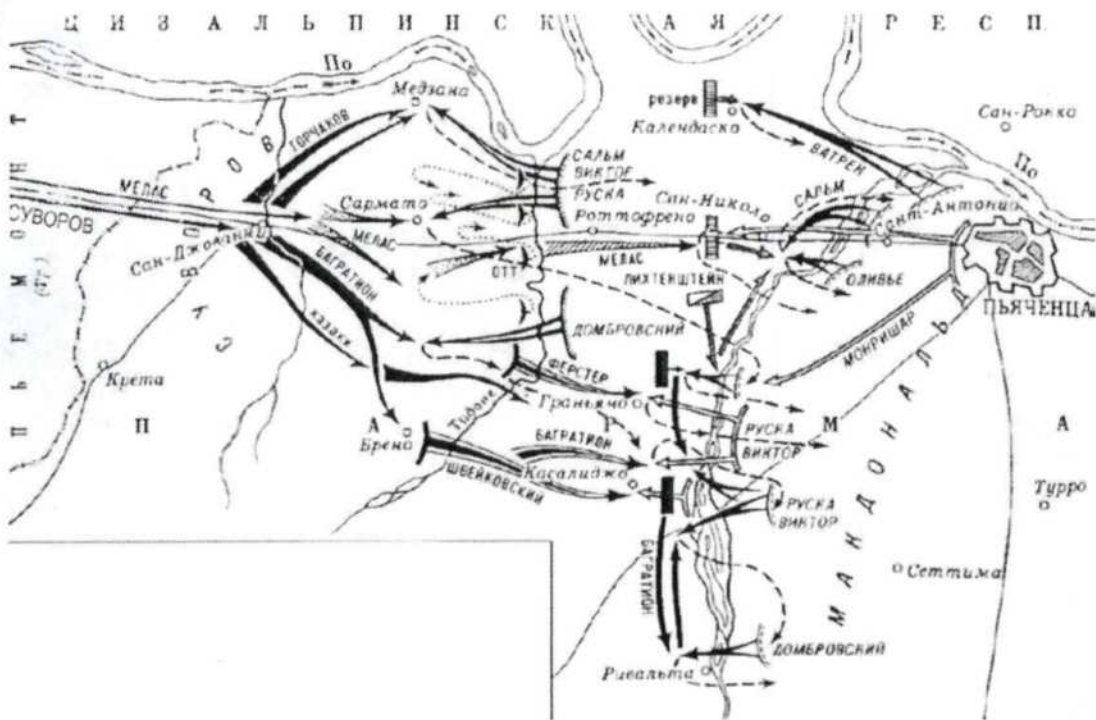
А	Б	В	Г	Д	Е
4 4	6 -	1 -	5 -	4 7	7 2

Максимум за задание – 6 баллов.

38



11. Внимательно рассмотрите схему и выполните задания.



11.1. А) Назовите сражение, представленное на схеме. Б) Укажите год, в котором оно произошло.

Ответ.

А) Бородинское сражение, Б) 1812 год

11.2. Назовите фамилию русского полководца, главнокомандующего русскими войсками в сражении, изображённом на схеме.

Ответ. Князь Михаил Илларионович Суворов

11.3. Укажите российского монарха, в правление которого произошло сражение, обозначенное на схеме.

Ответ. Александр I

11.4. Назовите государство, войска которого противостояли русским войскам в сражении, обозначенном на схеме.

Ответ. Франция

11.5. Верны ли представленные ниже утверждения («да» – «нет»)? Ответы внесите в таблицу.

1) Представленные на схеме события происходили одновременно с заседаниями Уложенной комиссии.

2) На схеме указана фамилия русского военачальника, погибшего в Бородинском сражении.

3) На стороне русской армии в данном сражении участвовали австрийские войска.

4) Сражение, ход которого обозначен на схеме, произошло во время Пятой антифранцузской коалиции.

5) В данном сражении принимали участие русские иррегулярные войска.

6) Полководец, главнокомандующий русскими войсками, известен почётным титулом «князь Итальянский».

7) Сражение, обозначенное на схеме, завершилось подписанием Рапальского договора.

8) Сражение, изображённое на схеме, произошло на территории современной Польши.

Ответ.

1	2	3	4	5	6	7	8
nem	ga	nem	ga	ga	nem	nem	ga

4 + - - 4 - 4 -

AS

Максимум за задание – 13 баллов.

12. Перед вами отрывки из международных договоров России/СССР. Определите, о каком договоре идёт речь, с какой страной он был заключён. Ответ внесите в предложенную ниже таблицу. Впишите в первый столбец таблицы порядковые номера договоров из списка, приведённого ниже, в хронологической последовательности их заключения, во второй столбец таблицы напротив названия договора запишите буквенное обозначение соответствующего фрагмента договора, в третьем столбце укажите название страны, с которой он был заключён.

**Фрагменты договоров**

А) «Его Величество Шах... от своего имени, и от имени своих Наследников и преемников, уступает Российской Империи в совершенную собственность Ханство Эриванское по сию и по ту сторону Аракса, и Ханство Нахичеванское. В следствие сей уступки, Его Величество Шах обещает, не позже 6 месяцев, считая от подписания настоящего договора, сдать Российским Начальствам все архивы и публичные документы, относящиеся до управления обоими вышеозначенными Ханствами».

Б) «Отныне границы между Россией и [...] будут проходить между островами Итурупом и Урупом. Весь остров Итуруп принадлежит [...], а весь остров Уруп и прочие Курильские острова к северу составляют владение России. Что касается острова Крафто (Сахалина), то он остаётся неразделённым между Россией и [...], как было до сего времени. Правительство открывает для русских судов три порта: Симода, в княжестве Идзу, Хакодате, в области Хакодате, и Нагасаки в княжестве Хизен».

В) «В следствии того, как в прелиминарном втором артикуле положено, что река Днестр навеки имеет быть границею между обеими Империями, так что впредь пределы Империи Всероссийской имеют простираться до помянутой реки, и ныне обе договаривающиеся Империи между собою согласились и постановили, что между Империею Всероссийскою и [...] пребудет границею река Днестр, так, что все земли, на левом берегу помянутой реки лежащая, имеют остаться вечно в совершенном и беспрепятственном владении Всероссийской Империи».

Г) «Е. к. в. уступает сим за себя и своих потомков и наследников престола и королевства [...] е. ц. в. и его потомкам и наследникам Российского государства в совершенное непрекословное вечное владение и собственность в сей войне... завоёванные провинции: Лифляндию, Эстляндию, Ингерманландию и часть Карелии с дистриктом Выборгского лена, который ниже сего в артикуле разграничения означен и описан, с городами и крепостями: Ригой, Дюнаминдом, Пернавой, Ревелем, Дерптом, Нарвой».

Д) «В подтверждение и пояснение первой статьи договора, заключённого в городе Айгуне... определяется: с сих пор восточная граница между двумя государствами, начиная от слияния рек Шилки и Аргуни, пойдёт вниз по течению реки Амура до места слияния сей последней реки с рекой Усури. Земли, лежащие по левому берегу (на север) реки Амура, принадлежат российскому государству, а земли, лежащие на правом берегу (на юг), до устья реки Усури, принадлежат [...] государству».

**Названия договоров**

- 1) Туркманчайский договор
- 2) Симодский трактат
- 3) Ништадтский договор
- 4) Пекинский договор
- 5) Ясский договор

Ответ.

Договор	Буквенное обозначение фрагмента	Страна, с которой заключён договор
1) -	A) -	
3) -	B) 4	← Пруссия

16<sup>4</sup>

4) -	4) -	Вс фронта Китая
2) 4	5) 4	Китай Япония
5) -	Г) -	Япония Польша

Максимум за задание – 12 баллов

38

13. В таблице помещены названия известных наступательных операций, осуществлённых Красной Армией в годы Великой Отечественной войны. Заполните таблицу, вписав в неё арабские цифры, которыми обозначены сроки проведения операций, буквенные обозначения основных целей каждой операции и римские цифры, которыми обозначены изображения, связанные с той или иной операцией.

**Сроки проведения**

1) август – сентябрь 1943 г.

**Основная цель операции**

А) Разгром фашистских войск под Сталинградом

**Иллюстрации**

I 51



2) ноябрь 1942 г. – февраль 1943 г.

Б) Освобождение Белгорода и Харькова

II Г3

Г II



3) июнь – август 1944 г.

В) Дезорганизация перевозок в тылу врага

III А2


Г II



4) август 1943 г.

Г) Освобождение Белоруссии

IV В4



Ответ.

Название военной операции	Цифровое обозначение сроков проведения	Буквенное обозначение цели	Цифровое обозначение иллюстрации
«Багратион»	1 -	б -	I
«Рельсовая война»	4 -	4 B	IV
«Полководец Румянцев»	2 -	- A	III
«Уран»	3 -	Г -	II

Максимум за задание – 12 баллов.

14. Прочитайте приведённый ниже отрывок из документа и ответьте на вопросы.

«Полагая в основу своей деятельности соблюдение строгой законности и обсудив в связи с этим началом высказанные Государственной Думой соображения, правительство выражает прежде всего готовность оказать полное содействие разработке тех вопросов, возбуждённых Государственной Думой, которые не выходят из пределов предоставленного ей законодательного почина.

Такое содействие, вполне отвечающее обязанности правительства разъяснять Государственной Думе свои взгляды по существу этих вопросов и отстаивать свои предположения по каждому из них, оно окажет и в вопросе об изменении избирательного права, хотя со своей стороны и не считает этого вопроса подлежащим немедленному обсуждению, так как Государственная Дума только ещё приступает к своей законодательной деятельности, а потому не успела выясниться потребность в изменении способа её составления.

Относительно разрешения земельного крестьянского вопроса путем указанного Государственной Думой обращение на этот предмет земель удельных, кабинетских, монастырских, церковных и принудительного отчуждения земель частновладельческих, к которым принадлежат и земли крестьян-собственников, приобретших их покупкою, Совет министров считает своею обязанностью заявить, его разрешение этого вопроса на предложенных Государственной Думой основаниях безусловно недопустимо. Государственная власть не может признавать права собственности на земли за одними и в то же время отнимать это право у других... Начало неотъемлемости и неприкосновенности собственности является, во всём мире и на всех ступенях развития гражданской жизни, краеугольным камнем народного благосостояния и общественного развития, коренным устоем государственного бытия, без коего немислимо и самое существование государства. <...> Сила русского государства зиждется прежде всего на силе его земледельческого населения. Благосостояние нашего отечества недостижимо, пока не обеспечены необходимые условия успеха и процветания земледельческого труда, который составляет основу всей нашей экономической жизни. Почитая поэтому крестьянский вопрос – ввиду его всеобъемлющего государственного значения – наиболее важным из подлежащих ныне разрешению, Совет министров признаёт, что в соответствии с этой важностью требуется и особая заботливость и осторожность в изыскании путей и способов для его разрешения.

Уравнение крестьян в их гражданских и политических правах с прочими сословиями отнюдь не должно лишить государственную власть права и обязанности выказывать особую заботливость к нуждам земледельческого крестьянства. Мероприятия в этой области должны быть направлены как к улучшению условий крестьянского землепользования в его существующих границах, так и к увеличению площади землевладения малоземельной части населения за счёт свободных казенных земель и приобретением частновладельческих земель при содействии Крестьянского поземельного банка. Громадные пространства пригодной для обработки земли ныне пустуют в азиатских владениях империи. Развитие переселенческого дела составит ввиду этого одну из первейших забот Совета министров...»

14.1. Назовите порядковый номер Государственной думы, к которой обращена речь, отрывок которой предоставлен. Приведите аргумент из текста в подтверждение своей позиции.

Ответ.

Порядковый номер - 1 («... Так как Государственная Дума только ещё приступает к своей законодательной деятельности, а потому не успела выясниться потребность в изменении способа её составления»)

14.2. Как Государственная дума предлагает решить аграрный вопрос? Каково отношение к этому правительства? Приведите на основе текста три положения отношения правительства к аграрному проекту Думы.

Ответ. 1) Государственная дума предлагает решить аграрный вопрос путем обложения на земли царских, кабинетских, монастырских, церковных и при-  
дворных учреждений земель частновладельческих, чтобы отдать их <sup>всё-всё</sup> ~~крестьянам~~  
2) - Разрешение этого вопроса на предложенных Государственной Думой основа-  
ниях безусловно необходимо  
- Преобладает свобода заботливости и осторожности в изыскании путей и  
способов для его разрешения  
- ~~Властители имеют ответственность, пока не обещаны~~  
- Готовность оказать полное содействие в разработке всех вопросов, ко-  
торые не выйдут за пределы предложенной ей законодательной программы

14.3. Какие мероприятия по решению аграрного вопроса предлагает автор речи? На основе текста приведите три положения.

Ответ. - Улучшение условий крестьянского землепользования в его существующих  
границах  
- Увеличение площади землевладения малоземельной массы населения  
за счет свободных казенных земель и приобретения частновладельческих  
земель при содействии Крестьянского Земельного банка  
- Развитие переселенческого дела

14.4. Обсуждение какого ещё вопроса, кроме аграрного, Дума считает первоочередным? Каково отношение правительства к этому вопросу?

Ответ. 1) Уравнение крестьян в их гражданских и политических правах  
2) Правительство считает, что решение данного вопроса не должно  
отбрасывать его в выказывающих особую заботливости и нуждах  
земледельческого крестьянства

14.5. Взглядов какого общественно-политического течения (идеологии) придерживается автор текста? На основании текста приведите три аргумента.

Ответ. 1) Консервативные  
2) Аграристы:  
- Для автора текста земледельческие крестьяне стоят выше, чем  
мещане  
- Отстаивание вопроса уравновешивания политических и гражданских  
прав крестьян с другими вопросами  
- Для автора текста основой экономической жизни является крестьяне  
землевладельцы

Максимум за задание – 25 баллов.