

0850416

ВСЕРОССИЙСКАЯ ОЛИМПИАДА ШКОЛЬНИКОВ

ГЕОГРАФИЯ. 2024–2025 уч. г.

ШКОЛЬНЫЙ ЭТАП. 6 КЛАСС

Максимальный балл за работу – 62

Тестовый тур

1. Линия, которая находится на равном расстоянии от обоих полюсов?
А) экватор
Б) орбита
В) земная ось
Г) меридиан
2. Следствием годового вращения Земли является
А) смена времён года
Б) смена дня и ночи
В) смена погоды
Г) изменение климата
3. Следствием осевого вращения Земли является
А) смена времён года
Б) смена дня и ночи
В) смена погоды
Г) смена времени
4. Вид изображения, позволяющий подробно изучить небольшой по площади участок земной поверхности, называется:
А) рисунок
Б) глобус
В) географическая карта
Г) план местности
5. Выберите ответ, где только названия материков
А) Азия, Америка, Австралия
Б) Евразия, Южная Америка, Антарктида
В) Антарктида, Европа, Азия
Г) Европа, Америка, Северная Америка
6. Какое утверждение о Земле как планете является верным?
А) Земля от Солнца расположена пятой по счёту планетой
Б) полный оборот Солнца Земля совершает за 24 часа
В) Земля совершает один виток по орбите примерно за 365 суток и 6 часов
Г) Земля вращается с Востока на Запад по часовой стрелке

Всероссийская олимпиада школьников. География. 2024–2025 уч. г.





Школьный этап. 6 класс

7. Самая обширная равнина на Земле:
А) Восточно-Европейская
Б) Амазонская
В) Индо-Гангская
Г) Ла-Платская
8. Установите правильную последовательность во времени следующих путешествий:
1) открытие морского пути в Индию Васко да Гамой
2) первое кругосветное путешествие Ф. Магеллана
3) открытие Антарктиды
4) открытие викингами островов Исландия, Гренландия и материка Северная Америка
А) 1234
Б) 3412
В) 2341
Г) 4123
9. Если встать лицом на север, то по правую руку у нас будет:
А) запад
Б) восток
В) юг
Г) юго-восток
10. Установите верное соответствие «путешественник – географический объект, носящий его имя»:

1 Фернан Магеллан	А) Остров
2 Христофор Колумб	Б) Мыс
3 Абель Тасман	В) Государство
4 Семён Челюскин	Г) Пролив

А) 1А 2В 3Б 4Г
Б) 1Б 2А 3Г 4В
В) 1В 2Б 3А 4Г
Г) 1Г 2В 3А 4Б
11. Какая гора является высочайшей вершиной суши?
А) Килиманджаро
Б) Эльбрус
В) Аконкагуа
Г) Джомолунгма

12. Соотнеси виды изображения земной поверхности с их названиями.
Какое соответствие будет верным?

			
1	2	3	4
а) план местности	б) глобус	в) аэрофотоснимок	г) географическая карта

- А) 1б2г3а4в
Б) 1а2б3г4в
В) 1в2г3а4б
Г) 1г2в3б4а

13. Какие два материка были открыты позже других материков?

- А) Африка
Б) Антарктида
В) Южная Америка
Г) Австралия
Д) Северная Америка.

14. В каком государстве изобрели компас?

- А) Япония
Б) Китай
В) Нигерия
Г) Египет

15. Какой океан назван в честь страны, берега которой он омывает?

- А) Тихий
Б) Атлантический
В) Северный Ледовитый
Г) Индийский

16. Установите, какое соответствие «горы – материк» верно:

- | | |
|----------------------------------|---------------------|
| 1. Альпы | А) Австралия |
| 2. Анды | Б) Северная Америка |
| 3. Аппалачи | В) Южная Америка |
| 4. Большой Водораздельный хребет | Г) Евразия |
| 5. Атлас | Д) Африка |

17. Установите, какое соответствие «река, озеро – материк» верно:

- | | |
|-----------------------|---------------------|
| 1. Волга, Байкал | А) Африка |
| 2. Нил, Танганьика | Б) Южная Америка |
| 3. Миссисипи, Эри | В) Северная Америка |
| 4. Амазонка, Титикака | Г) Евразия |

18. Соединив части слов между собой, вы узнаете, как называются загаданные объекты характерные для территории Красноярского края

Пих	Стол	ро	ведь
Ду	сун	кель	рош
Ни	Мо	Мед	мыр
Ку	ка	бы	та
Мук	Тай	пат	дин
ка	ка	Лем	минг

- Хвойное дерево
- Название заповедника недалеко от г. Красноярска
- Название портового города на севере Красноярского края
- Металл, который добывают на севере края
- Северная ягода
- Животное Арктики
- Птица тундры
- Рыба в красноярских реках и озёрах
- Самый большой полуостров в Красноярском крае.
- На этого зверька охотятся полярные совы и песцы

Логический ряд

19. Выберите из списка географические объекты которые относятся:

к части света Азии: Амур, Дунай, Днепр, Енисей, Инд, Волга, Рейн, Хуанхэ, Дон;

к Африке: жираф, анаконда, тигр, лев, панда, куница, гепард, лама, бегемот, страус;

к Европе: Париж, Нью-Йорк, Мадрид, Оттава, Минск, Рига, Пекин, Сидней, Претория.

20. Опираясь на знание географии, выберете общий признак, который объединяет путешественников: Френсис Дрейк, Фернанд Магеллан, Витус Беринг, Жан-Франсуа Лаперуза, Джеймс Кук, Дмитрий Лаптев.

ВСЕРОССИЙСКАЯ ОЛИМПИАДА ШКОЛЬНИКОВ

Бланк ответов: ГЕОГРАФИЯ 2024–2025 уч. г.

ШКОЛЬНЫЙ ЭТАП. 6 КЛАСС

Максимальный балл за работу — 62.

Тестовый тур (макс. 30 баллов)

За правильный ответ – 1 балл (макс. – 16 баллов)

1	2	3	4	5	6	7	8	9	10	11	12	13	14	15
а	а	д	з	с	з	а	з	с	з	з	з		с	з
+	+	+	+	+	-	-	+	+	+	+	+	-	+	+

12

Задания № 16-17. Каждый правильный ответ оценивается по 1 баллу, итого макс. 9 баллов

16. Установите соответствие

1	2	3	4	5
з	с	г	в	а

5

17. Установите соответствие

1	2	3	4
з	а	в	с

18. Оценивается - 0,5 балла за каждое найденное слово, итого макс. 5 баллов

1	1. Хвойное дерево	листвен	+
2	2. Название заповедника недалеко от г. Красноярска	Столбы	+
3	3. Название города на севере края	дудинка	+
4	4. Металл, который добывают на севере края	железо	+
5	5. Северная ягода	морщина	+
6	6. Животное Арктики	нарвал	+
7	7. Птица тундры	курица	+
8	8. Рыба в красноярских реках и озёрах	лосось	+
9	9. Самый большой полуостров в Красноярском крае.	поясиль	+
10	10. На этого зверька охотятся полярные совы и песцы	лишайник	+

5

Логический тур (макс. – 32 баллов)

19.	Кто: Душ, Душай, Енисей, Ино, Куркас Корина: желая, акабада, Лев, Зерада, страж, Серамон Евродя: парня, мадрюд, миню, ринд	4
20.	Отки открыли объекты или дали название объектам	4
21.	Скорость света быстрее скорости звука	4
22.	в Тайланде в это время тоже зима в Тайланде температуры	4
23.	землетрясение	
24.	вулканическое извержение	

38
Реш

06 504 20

ВСЕРОССИЙСКАЯ ОЛИМПИАДА ШКОЛЬНИКОВ

ГЕОГРАФИЯ. 2024–2025 уч. г.

ШКОЛЬНЫЙ ЭТАП. 6 КЛАСС

Максимальный балл за работу – 62

Тестовый тур

1. Линия, которая находится на равном расстоянии от обоих полюсов?

- А) экватор
- Б) орбита
- В) земная ось
- Г) меридиан

2. Следствием годового вращения Земли является

- А) смена времён года
- Б) смена дня и ночи
- В) смена погоды
- Г) изменение климата

3. Следствием осевого вращения Земли является

- А) смена времён года
- Б) смена дня и ночи
- В) смена погоды
- Г) смена времени

4. Вид изображения, позволяющий подробно изучить небольшой по площади участок земной поверхности, называется:

- А) рисунок
- Б) глобус
- В) географическая карта
- Г) план местности

5. Выберите ответ, где только названия материков

- А) Азия, Америка, Австралия
- Б) Евразия, Южная Америка, Антарктида
- В) Антарктида, Европа, Азия
- Г) Европа, Америка, Северная Америка

6. Какое утверждение о Земле как планете является верным?

- А) Земля от Солнца расположена пятой по счёту планетой
- Б) полный оборот Солнца Земля совершает за 24 часа
- В) Земля совершает один виток по орбите примерно за 365 суток и 6 часов
- Г) Земля вращается с Востока на Запад по часовой стрелке

Всероссийская олимпиада школьников. География. 2024–2025 уч. г.

Школьный этап. 6 класс

7. Самая обширная равнина на Земле:

- А) Восточно-Европейская
- Б) Амазонская
- В) Индо-Гангская
- Г) Ла-Платская

8. Установите правильную последовательность во времени следующих путешествий:

- 1) открытие морского пути в Индию Васко да Гамой
 - 2) первое кругосветное путешествие Ф. Магеллана
 - 3) открытие Антарктиды
 - 4) открытие викингами островов Исландия, Гренландия и материка Северная Америка
- А) 1234
 - Б) 3412
 - В) 2341
 - Г) 4123

9. Если встать лицом на север, то по правую руку у нас будет:

- А) запад
- Б) восток
- В) юг
- Г) юго-восток

10. Установите верное соответствие «путешественник – географический объект, носящий его имя»:





- | | |
|--------------------|----------------|
| 1 Фернан Магеллан | А) Остров |
| 2 Христофор Колумб | Б) Мыс |
| 3 Абель Тасман | В) Государство |
| 4 Семён Челюскин | Г) Пролив |

- А) 1А 2В 3Б 4Г
- Б) 1Б 2А 3Г 4В
- В) 1В 2Б 3А 4Г
- Г) 1Г 2В 3А 4Б

11. Какая гора является высочайшей вершиной суши?

- А) Килиманджаро
- Б) Эльбрус
- В) Аконкагуа
- Г) Джомолунгма

12. Соотнеси виды изображения земной поверхности с их названиями.
Какое соответствие будет верным?

			
1	2	3	4
а) план местности	б) глобус	в) аэрофотоснимок	г) географическая карта

- А) 1б2г3а4в
Б) 1а2б3г4в
В) 1в2г3а4б
Г) 1г2в3б4а

13. Какие два материка были открыты позже других материков?

- А) Африка
Б) Антарктида
В) Южная Америка
Г) Австралия
Д) Северная Америка.

14. В каком государстве изобрели компас?

- А) Япония
Б) Китай
В) Нигерия
Г) Египет

15. Какой океан назван в честь страны, берега которой он омывает?

- А) Тихий
Б) Атлантический
В) Северный Ледовитый
Г) Индийский

16. Установите, какое соответствие «горы – материк» верно:

- | | |
|------------------------------------|---------------------|
| Г 1. Альпы | А) Австралия |
| В 2. Анды | Б) Северная Америка |
| Б 3. Аппалачи | В) Южная Америка |
| А 4. Большой Водораздельный хребет | Г) Евразия |
| А 5. Атлас | Д) Африка |

17. Установите, какое соответствие «река, озеро – материк» верно:

- | | |
|-------------------------|---------------------|
| Г 1. Волга, Байкал | А) Африка |
| А 2. Нил, Танганьика | Б) Южная Америка |
| В 3. Миссисипи, Эри | В) Северная Америка |
| Б 4. Амазонка, Титикака | Г) Евразия |

18. Соединив части слов между собой, вы узнаете, как называются загаданные объекты характерные для территории Красноярского края

Пих	Стол	ро	ведь
Ду	сун	кель	рош
Ни	Мо	Мед	мыр
Ку	ка	бы	та
Мук	Тай	пат	дин
ка	ка	Лем	минг

1. Хвойное дерево *ПИХТА*
2. Название заповедника недалеко от г. Красноярска
3. Название портового города на севере Красноярского края *АУДАНА*
4. Металл, который добывают на севере края *НИКЕЛЬ*
5. Северная ягода *КОРОМКА*
6. Животное Арктики *СОБАКА*
7. Птица тундры
8. Рыба в красноярских реках и озёрах
9. Самый большой полуостров в Красноярском крае. *ТАЙМЫРСКИЙ*
10. На этого зверька охотятся полярные совы и песцы *ПЕЩА*
ЛЕММИНГ

Логический ряд

19. Выберите из списка географические объекты которые относятся:

к части света Азии: Амур, Дунай, Днепр, Енисей, Инд, Волга, Рейн, Хуанхэ, Дон;

к Африке: жираф, анаконда, тигр, лев, панда, куница, гепард, лама, бегемот, страус;

к Европе: Париж, Нью-Йорк, Мадрид, Оттава, Минск, Рига, Пекин, Сидней, Претория.

20. Опираясь на знание географии, выберите общий признак, который объединяет путешественников: Френсис Дрейк, Фернанд Магеллан, Витус Беринг, Жан-Франсуа Лаперуза, Джеймс Кук, Дмитрий Лаптев.

ВСЕРОССИЙСКАЯ ОЛИМПИАДА ШКОЛЬНИКОВ

Бланк ответов: ГЕОГРАФИЯ 2024–2025 уч. г.

ШКОЛЬНЫЙ ЭТАП. 6 КЛАСС

Максимальный балл за работу — 62.

Тестовый тур (маx. 30 баллов)

За правильный ответ — 1 балл (маx. — 16 баллов)

1	2	3	4	5	6	7	8	9	10	11	12	13	14	15
А	А	Б	Г	Б	В	А	Г	А	Б	Г	Г	Б, Г	Б	Г

Задания № 16-17. Каждый правильный ответ оценивается по 1 баллу, итого маx. 9 баллов

16. Установите соответствие

1	2	3	4	5
Г	В	Б	А	А

17. Установите соответствие

1	2	3	4
Г	А	В	Б

18. Оценивается - 0,5 балла за каждое найденное слово, итого маx. 5 баллов

1	1. Хвойное дерево	пихта
2	2. Название заповедника недалеко от г. Красноярска	Стобы
3	3. Название города на севере края	Аldида
4	4. Металл, который добывают на севере края	никель
5	5. Северная ягода	морозика
6	6. Животное Арктики	медведь
7	7. Птица тундры	хрустят
8	8. Рыба в красноярских реках и озёрах	
9	9. Самый большой полуостров в Красноярском крае.	Таймырский
10	10. На этого зверька охотятся полярные совы и песцы	лемминг

Логический тур (маx. — 32 баллов)

19.	Амур, Енисей, Инд, Хуанхэ, Мира, Тунгус, Тунгус, Ялу, Селенга, Урали, Тарим, Магун, Шунь, Дунь
20.	они все морем вытекают в океан
21.	наибольшая масса льда на байкале на морозе от мороза и зноя льда можно дождаться
22.	то что не все льды в море
23.	облавы на лосей.
24.	облавы на лосей. самое большое количество рыбы в море.

37,5 балла